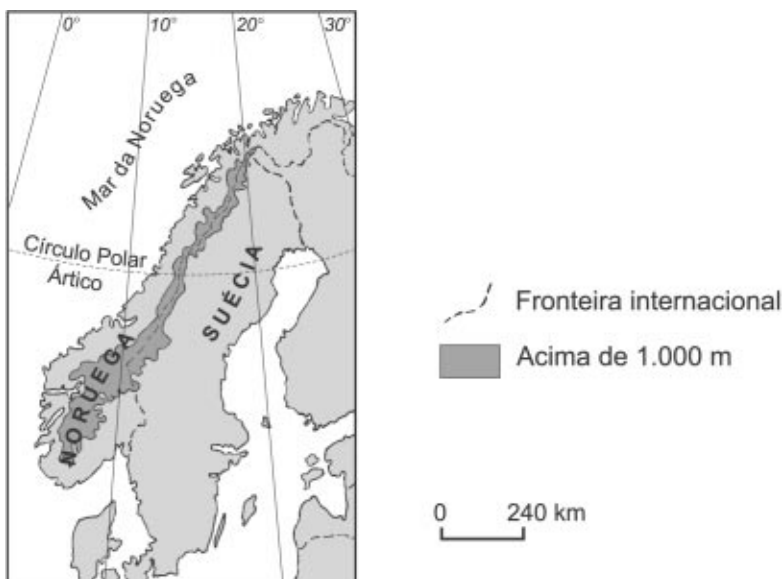


PROVA DE GEOGRAFIA

QUESTÃO 16


Analise este mapa:

Península Escandinava



A partir da análise e interpretação desse mapa e com base em outros conhecimentos sobre o assunto, é **INCORRETO** afirmar que

- A) a geografia escandinava, mais ainda a da Noruega, favoreceu a vocação marítima do seu povo desde a Idade Média.
- B) a posição geográfica muito setentrional desses dois países peninsulares os torna tão frios, que o povoamento dos seus territórios fica reduzido às suas margens litorâneas meridionais.
- C) o litoral norueguês, já longo pela forma do País, ganha muito em extensão por ser extremamente recortado por inúmeros fiordes.
- D) o relevo acidentado, de altitudes mais elevadas, que se estende de norte a sul da Península, como uma espinha dorsal, dificulta a formação de extensos rios nos dois países.



QUESTÃO 17

Leia este trecho:

O *global warming*, ou aquecimento global, é um tema extremamente confuso, “às vezes obscuro”, como o classificou recentemente Godard (2001). Esse tema reúne tudo: a poluição e o clima, este último, o álibi, o espantalho; os bons sentimentos e os interesses confessáveis e inconfessáveis; o planeta que precisa ser “salvo” enquanto se negocia o direito de poluir; as teorias de modelos e os mecanismos reais, o hipotético clima do futuro (apresentado como um postulado) e a evolução do tempo presente; as previsões tão mais gratuitas quanto mais distante está sua confirmação (aproximando-se de profecias à “Nostradamus”); o sensacionalismo e a seriedade científica, a procura do “furo” e a informação devidamente fundamentada, a mídia que aumenta a confusão, sobretudo entre clima e tempo.

LEROUX, Marcel. *Global warming: mito ou realidade? A evolução real da dinâmica do tempo. Annales de Géographie*, n. 624, 2002, p. 115-137. (Adaptado)

A partir da leitura e análise desse trecho, é **INCORRETO** afirmar que

- A) a discussão sobre o tema do aquecimento global envolve uma diversidade de posições, valores e atitudes polêmicos e, também, de interesses escusos.
- B) a posição do autor é percebida como a de um defensor convicto da hipótese do aquecimento global.
- C) as mudanças do tempo meteorológico são confundidas, às vezes, com mudanças climáticas globais.
- D) o texto é crítico e irônico em relação à forma como vem sendo tratado o tema do aquecimento global.



QUESTÃO 18

A água é um recurso natural de uso múltiplo. Entre as formas de utilização desse recurso nas atividades humanas, destacam-se os usos doméstico – urbano e rural –, industrial e agrícola e a dessedentação de animais.

É **CORRETO** afirmar que, no Brasil, a **maior** demanda por água é requerida

- A) pela atividade agrícola, em que a irrigação se tornou essencial nas áreas de produção agroexportadora de grãos e frutas e nas policulturas.
- B) pela atividade industrial, notadamente naqueles parques voltados para a manufatura de bens de consumo.
- C) pela dessedentação de rebanhos, mediante incorporação de técnicas que substituem o sistema apoiado no deslocamento do gado às fontes naturais de água.
- D) pelo uso doméstico, uma vez que constitui recurso essencial nas diversas atividades cotidianas da população.


QUESTÃO 19

Um estudante de Geografia, durante a elaboração de trabalho escolar que tratava do relevo brasileiro, encontrou, em um livro didático, esta definição:

Planalto: Relevo plano e alto, situado acima dos 1.000 m de altitude, cuja formação ocorreu no Pré-Cambriano. Nesse relevo, os processos de erosão superam os de acumulação de sedimentos.

Considerando-se esse tipo de relevo, conclui-se que essa definição está

- A) **CORRETA**, uma vez que os planaltos, no Brasil, se situam acima dos 1.000 m de altitude.
- B) **CORRETA**, uma vez que os planaltos foram esculpidos por processos bastante antigos, que, na escala do tempo geológico, ocorreram no Pré-Cambriano.
- C) **INCORRETA**, uma vez que atuam, nos planaltos, processos de acumulação de sedimentos, que superam os de erosão.
- D) **INCORRETA**, uma vez que o modelado dos planaltos – ou seja, sua forma – nem sempre é plano.



QUESTÃO 20

O Brasil é revestido por formações florestais diferenciadas sob vários aspectos.

Considerando-se as formações florestais brasileiras, é **INCORRETO** afirmar que

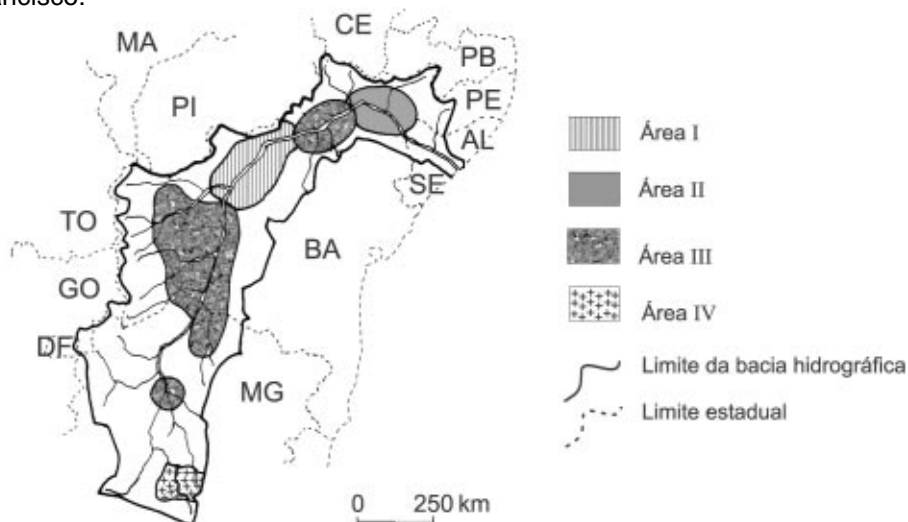
- A) as diferenças de densidade, estrutura, fisionomia e composição florística apresentadas por essas florestas são devidas à diversidade dos climas e dos solos e a mudanças ambientais no tempo geológico.
- B) as florestas galerias, ou ciliares, são formações arbóreas naturais, alongadas e estreitas, circunscritas a vales ou margens de rios e típicas dos domínios de cerrados e campos.
- C) as florestas subtropicais do Planalto Meridional são equivalentes ecológicos das florestas de coníferas encontradas nas latitudes extratropicais do Hemisfério Norte, nas zonas temperadas.
- D) as formações florestais do Brasil Central, diferentemente das de grande parte da Amazônia, têm ritmo sazonal marcado pela alternância de estações seca e chuvosa.



QUESTÃO 21

A Agência Nacional de Águas (ANA) realizou, em 2002, diagnóstico ambiental das bacias hidrográficas brasileiras.

Analise este mapa, que foi elaborado com base nos resultados alcançados por essa Agência no que se refere à situação atual da bacia hidrográfica do Rio São Francisco:




FONTE: Agência Nacional de Águas (ANA), 2002. Regiões hidrográficas do Brasil: recursos hídricos e aspectos prioritários, 2002 – CD-Rom. (Adaptado)

Nesse mapa, de acordo com a legenda que o explica, está indicado o uso da terra dessa bacia em **quatro** tipos de áreas – **I, II, III e IV**.

A partir dessa análise, é **INCORRETO** afirmar que

- A) a **Área I** abriga grande número de atividades minerárias, que têm comprometido a qualidade da água pela intensificação do assoreamento e do uso de produtos tóxicos.
- B) a **Área II** tem sido alvo de conflitos decorrentes do uso múltiplo da água, notadamente para geração de hidreletricidade e para irrigação.
- C) a **Área III** apresenta grande concentração de projetos de irrigação fortemente dependentes da vazão dos rios, tendo-se em vista as reduzidas médias anuais de precipitação.
- D) a **Área IV** é caracterizada por alta concentração demográfica e industrial, responsável pela emissão de grande volume de cargas poluidoras na rede hidrográfica.



QUESTÃO 22

Considerando-se as paisagens serranas do meio tropical do Sudeste brasileiro, com altitudes superiores a 1.200 m – como as da Serra da Mantiqueira –, é **INCORRETO** afirmar que elas

- A) favorecem o desenvolvimento de atividades turísticas diferenciadas – como as esportivas, ecológicas, de inverno –, relevante opção econômica nos tempos atuais.
- B) oferecem alternativas econômicas diferentes nas regiões tropicais, ao possibilitarem o desenvolvimento de culturas temperadas, sobretudo de frutas.
- C) registram, mesmo estando em latitudes relativamente baixas, temperaturas que podem atingir valores absolutos próximos ou inferiores a 0 °C.
- D) se caracterizam pelo acentuado efeito orográfico, que cria regiões semi-áridas nos vales e nas baixas vertentes ocidentais.

QUESTÃO 23

Considerando-se a evolução da população brasileira nos três últimos decênios, é **INCORRETO** afirmar que

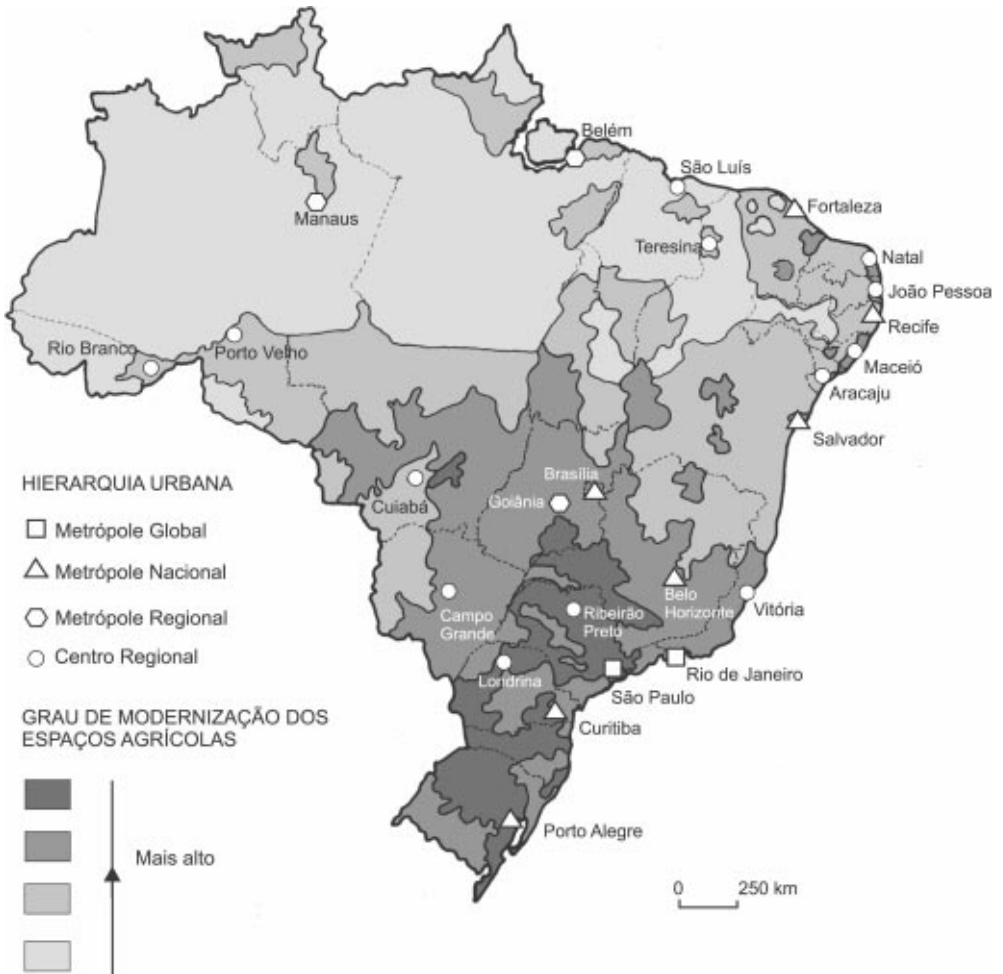
- A) a extensão da legislação trabalhista ao campo colaborou para a intensificação do êxodo rural.
- B) a intensidade da urbanização foi reduzida, na década de 1980, como reflexo da crise econômica que atingiu toda a América Latina.
- C) a redução percentual da população rural se fez desacompanhada da queda proporcional da produção agropecuária na economia.
- D) o padrão de crescimento demográfico brasileiro difere significativamente daquele que ocorreu em países desenvolvidos, no mesmo período.




QUESTÃO 24

Analise este mapa:

Brasil: Hierarquia urbana e grau de modernização dos espaços agrícolas - 2002



FONTE: *Atlas geográfico escolar*. Rio de Janeiro: IBGE, 2002. p. 160. (Adaptado)



A partir da análise desse mapa e com base em outros conhecimentos sobre o assunto, é **INCORRETO** afirmar que, nos espaços agrícolas brasileiros,

- A) a modernização mais intensa está presente nas regiões que sofrem maior influência da metrópole global mais dinâmica do País.
- B) as características do meio físico condicionam o processo de modernização nas diversas regiões.
- C) o avanço da fronteira agrícola tem sido acompanhado, de perto, pelo incremento da modernização.
- D) o grau de modernização comprova a existência de estreita correlação entre as atividades industriais e as agrícolas.




QUESTÃO 25

Analise este mapa:

Brasil: Regiões Metropolitanas – 2000



FONTE: *Atlas geográfico escolar*. Rio de Janeiro: IBGE, 2002. p. 155. (Adaptado)



A partir da análise desse mapa e com base em outros conhecimentos sobre o assunto, é **INCORRETO** afirmar que

- A) a década de 1990 assistiu à institucionalização de muitas regiões metropolitanas, sobretudo no Centro-Sul.
- B) a formação das regiões metropolitanas se vincula, estreitamente, à presença de atividades industriais antigas e recentes.
- C) a maior concentração de população urbana do País ocorre no largo corredor em cujas extremidades se localizam Curitiba e Florianópolis.
- D) a significativa quantidade de regiões metropolitanas no Brasil é um reflexo direto do antigo processo de urbanização.

QUESTÃO 26

Considerando-se a posição geopolítica e econômica do Estado de Minas Gerais no Brasil, é **INCORRETO** afirmar que

- A) a grande extensão territorial, a população numerosa e a economia dinâmica são fatores tradicionais que favorecem a relevância política do Estado no cenário nacional.
- B) a posição de zona de transição, pelo contato com vários ecossistemas brasileiros, confere ao território mineiro uma aptidão agropastoril diversificada.
- C) a produção de café e de leite tem revelado, nas últimas décadas, uma expressiva queda, o que coloca o Estado em desvantagem no cenário nacional.
- D) a produção e a exportação de matérias-primas minerais e de bens da indústria de base – como o ferro-gusa e o aço – constituem, ainda, pilares da economia estadual.



QUESTÃO 27

A aceleração do crescimento econômico da China, nos últimos anos, reflete-se na economia mundial por razões diversas.


Considerando-se essa afirmação, é **INCORRETO** afirmar que tal aceleração

- A) é autônoma em relação ao capital internacional, pois estabelece um sistema financeiro paralelo, que vem se firmando como modelo para as economias regionais.
- B) interfere na balança comercial de países emergentes, uma vez que reduz a taxa de exportações desse grupo para os países mais industrializados.
- C) provoca aumento da demanda de matérias-primas e de produtos agrícolas no mercado internacional, afetando os preços praticados nesses itens.
- D) resulta em um consumo maior de petróleo, o que contribui para a alta do preço da energia e, conseqüentemente, para a elevação dos custos de produção nos processos industriais.

QUESTÃO 28

Considerando-se a evolução econômico-social em diferentes regiões do mundo nos últimos anos, é **INCORRETO** afirmar que

- A) a América Latina, embora tenha sido pouco beneficiada pela recuperação da economia mundial, vem registrando progresso nos indicadores da saúde e educação.
- B) a Ásia Oriental tem apresentado um crescimento econômico vigoroso, o que contrasta com o desempenho abaixo do esperado na União Européia.
- C) a Rússia, apesar do processo de privatização concluído e da adoção de regras capitalistas de mercado, vem revelando desempenho econômico semelhante ao dos países periféricos.
- D) os EUA absorvem grande parte dos investimentos diretos estrangeiros, mas o aumento do capital não tem sido suficiente para assegurar a estabilidade da economia do país.



QUESTÃO 29

A ONU organizou, no final do século XX, um plano de ação – denominado Metas do Milênio –, que tem como um de seus objetivos a melhoria da condição de vida nas regiões menos desenvolvidas do mundo. De acordo com o cronograma desse plano, os níveis de pobreza da população mundial começariam a se reduzir nos primeiros anos do século XXI.

Considerando-se essa informação, é **INCORRETO** afirmar que o fator responsável pelo não-cumprimento do cronograma do Plano de Metas da ONU é

- A) a exigência da ONU quanto à aplicação de estratégias de desenvolvimento sustentável nos países pobres tem reduzido o retorno de capital, desestimulando os investimentos estrangeiros.
- B) a defasagem entre a ajuda prometida pelos países da OCDE – ou pelos países mais desenvolvidos – e aquela efetivamente concedida até o momento atual.
- C) a incapacidade de universalização da educação primária, já constatada em um número significativo dos países-alvo do programa.
- D) o aumento do percentual da população que convive com a fome em regiões como o Oriente Médio e a África Subsaariana, em contraposição ao que se esperava no conjunto das Metas.

QUESTÃO 30

Na atualidade, o terrorismo vem-se constituindo em uma preocupação crescente no cenário internacional.

Considerando-se essa informação, é **INCORRETO** afirmar que os atos terroristas

- A) instituem uma nova forma de agressão ao patrimônio humano e material de um país, sem que algum outro Estado possa ser formalmente responsabilizado pelo ato.
- B) levam à perda do significado das fronteiras, uma vez que o combate e a prevenção contra tais atos têm sido organizados, de forma conjunta, no âmbito regional ou continental.
- C) são protagonizados por atores que não se subordinam às instituições supranacionais legitimadas como promotoras da paz e da segurança do Planeta.
- D) trazem instabilidade às populações de países desenvolvidos, que usufruem de serviços públicos eficientes, de elevado padrão de vida e de instituições democráticas consolidadas.

