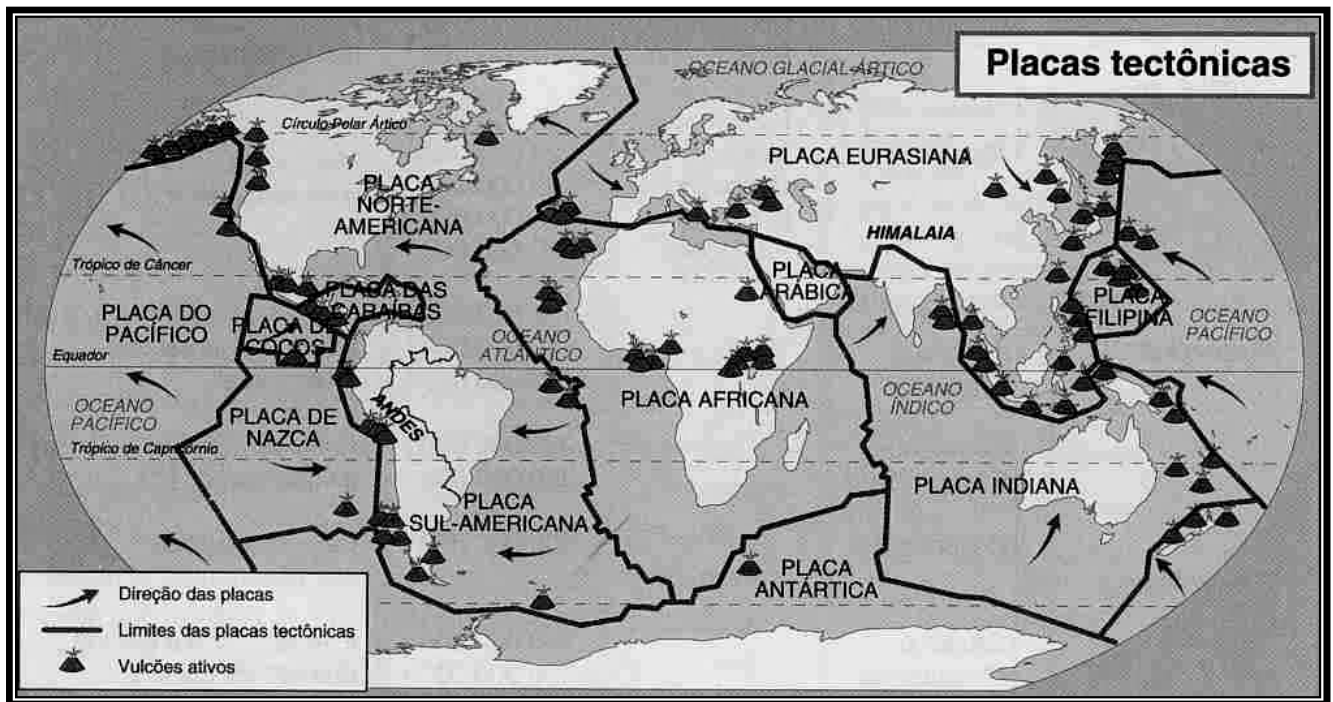


**PROVA DE GEOGRAFIA**

OBSERVE O MAPA ABAIXO E RESPONDA ÀS QUESTÕES 36 E 37.



### QUESTÃO 36

Constituem expressões espaciais de atividade tectônica recente, **EXCETO**:

- presença de alinhamentos montanhosos, conforme atestam, no Cinturão de Fogo do Pacífico, os Andes, as Rochosas e a Península Kanchatka (Rússia).
- presença de arcos insulares, conforme atesta a existência dos arquipélagos malaio-indonésio, japonês e das Antilhas.
- presença de ilhas vulcânicas em zonas de formação de cadeias montanhosas intra-oceânicas, como ocorre na Islândia e Geórgia do Sul.
- presença de maciços granito-gnáissicos, como atestam os montes Apalaches, Urais e os Alpes Australianos.

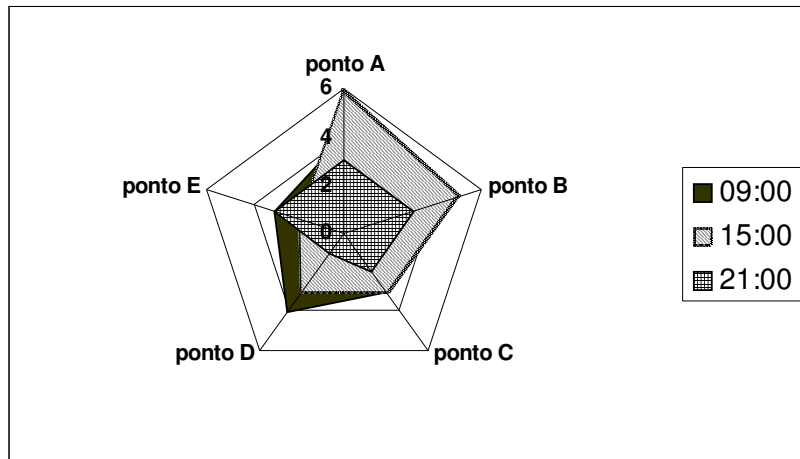
### QUESTÃO 37

Observando-se a morfologia dos blocos continentais e sua distribuição pelo globo, é **CORRETO** afirmar que:

- as bordas continentais coincidem, em geral, com as bordas das placas tectônicas.
- o movimento das placas conduziu a uma menor concentração de massas continentais no hemisfério setentrional.
- as bordas continentais ativas continuam sujeitas ao processo de acréscimo lateral e enrugamento pelo aporte de material pastoso do manto e pressão do movimento contínuo das placas.
- o movimento das placas é invariavelmente convergente, o que leva a um esforço de formação do relevo.

### QUESTÃO 38

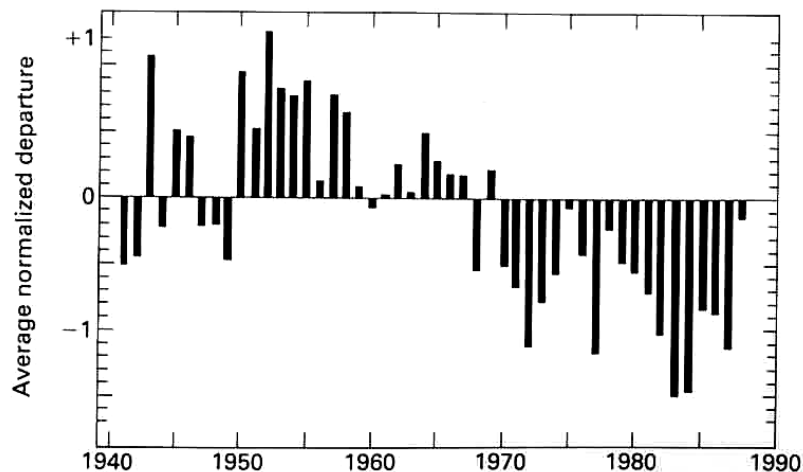
O gráfico a seguir representa a força do vento registrada na localidade “X” nos horários de coleta das 09:00, 15:00 e 21:00 horas. A partir de sua análise, é **INCORRETO** afirmar:



- O horário de maior intensidade do vento foi às 09:00 horas.
- Os pontos A e B constituem os locais de maior intensidade do vento.
- O ponto A foi o local que registrou a maior intensidade do vento.
- O horário das 21:00 horas registrou as menores velocidades do vento.

### QUESTÃO 39

O gráfico abaixo representa as variações da pluviosidade em relação à média histórica, na região africana do Sahel, entre os anos 1940-1990.



(Fonte: Cox & Moore, biogeography, pág. 102, 1993)

A partir da análise do gráfico, é **CORRETO** afirmar que:

- entre os anos 1940-1990, a variabilidade da precipitação em relação à sua média histórica foi baixa, o que indica estar dentro dos padrões climatológicos globais.
- a partir dos anos 70, a variabilidade negativa da pluviosidade parece ter se acentuado, indicando uma mudança climática global.
- entre 1960-1990, houve uma tendência à redução dos totais pluviométricos precipitados.
- a partir de 1970, os volumes pluviométricos precipitados foram inferiores a 0mm, indicando uma elevada escassez de recursos hídricos.

## **QUESTÃO 40**

O Brasil tem o título de país detentor da maior biodiversidade do planeta, graças, entre outras coisas, aos grandes biomas que apresentam diferenças significativas em seus arranjos ambientais. Sobre os biomas brasileiros, é **INCORRETO** afirmar:

- a) Os biomas florestais brasileiros são os de maior abrangência espacial e são responsáveis pela maior parte da diversidade biótica nacional.
- b) O bioma do cerrado assemelha-se, em fisionomia, a outros biomas savânicos dispersos pelos continentes africano, asiático e australiano.
- c) Os campos rupestres constituem áreas de abrangência espacial reduzida, se comparados aos demais, mas apresentam um grande endemismo de espécies.
- d) A caatinga nordestina constitui um bioma campestre em função da baixa pluviosidade local e possui menor diversidade biológica que os demais.

---

RESPONDA ÀS QUESTÕES DE 41 A 43 CONSIDERANDO AS OPÇÕES ABAIXO.

---

- a) se apenas as afirmativas I e II forem verdadeiras.
- b) se apenas as afirmativas II e III forem verdadeiras.
- c) se as afirmativas I, II, III e IV forem verdadeiras.
- d) se nenhuma das afirmativas for verdadeira.

## **QUESTÃO 41**

A inserção política brasileira no sistema político-econômico internacional pode ser considerada modesta, em oposição às suas dimensões geográficas e demográficas. Constituem obstáculos a uma participação mais efetiva do Brasil no arranjo geopolítico mundial:

- I. As crises políticas e econômico-financeiras são obstáculos aos ajustes do País às transformações e à dinâmica do capitalismo internacional.
- II. As dificuldades em estabelecer políticas públicas de inserção social coerentes e objetivas geram contradições que enfraquecem a posição do Estado em suas relações internacionais.
- III. A relativa marginalização do País quanto a investimentos diretos de capital estrangeiro confirma essa posição menos privilegiada no arranjo geopolítico mundial.
- IV. Os passivos sociais e ambientais historicamente produzidos materializam-se na estrutura social e espacial do País, restando possibilidades de crescimento econômico rápido e maior competitividade externa.

## **QUESTÃO 42**

O planejamento do espaço agrário deve ser visto como um processo controlador e/ou modificador, direcionando, organizando e estruturando a ocupação e expansão do espaço, sendo necessário:

- I. identificar os espaços de maior potencialidade da terra, para produzir nas áreas que oferecem melhor aptidão agrícola.
- II. adotar os sistemas agrários mais adequados para cada realidade, definindo a melhor forma para alcançar maior produtividade/rentabilidade.
- III. promover um manejo sustentável, criando mecanismos para amenizar os impactos no ambiente físico e nos ecossistemas.
- IV. alcançar a integração entre a produção, a conservação e o melhoramento do meio ambiente, para obter resultados mais eficazes.

### **QUESTÃO 43**

Ao se planejar o controle e o manejo de impactos ambientais no Brasil, deve-se considerar os seguintes condicionantes:

- I. a autonomia das atividades rurais nas estratégias de relações econômicas campo-cidade.
- II. o adensamento da urbanização, da industrialização e dos eixos e fluxos de transportes.
- III. os problemas urbanos de impermeabilização do solo, de infra-estrutura e de circulação.
- IV. a regularidade da ocupação dos contextos metropolitanos e dos riscos ambientais.

### **QUESTÃO 44**

No Brasil, antigos arranjos na base da centralidade urbana são afetados pela dinâmica cada vez maior das comunicações, favorecendo a integração, e pelas especializações dos contextos regionais, estabelecendo novas configurações nas relações sociais e econômicas. Nesse contexto, é **INCORRETO** afirmar que ocorre:

- a) o desaparecimento da área central, que perde sua função de comércio e de prestação de serviços.
- b) a descentralização geográfica da indústria e fortalecimento dos contextos regionais de urbanização.
- c) a intensificação da mobilidade das informações e dos fluxos de pessoas e mercadorias.
- d) a sobreposição das redes de fluxos às redes de lugares.

### **QUESTÃO 45**

A urbanização é um processo cada vez mais presente no espaço geográfico brasileiro. Entre suas características, é **INCORRETO** afirmar:

- a) A urbanização é definida por um determinado número de habitantes de uma cidade, não se restringindo ao crescimento físico ou a prolongamentos no meio circundante.
- b) As formas de urbanização resultam do espaço produzido e expressam o caráter de formação econômico-social de produção.
- c) A urbanização resulta da reprodução de comportamentos culturais e da estrutura de formação social urbana.
- d) A urbanização expressa a combinação de movimentos sociais, difusão de valores e informações.

### **QUESTÃO 46**

A Amazônia apresenta um quadro econômico e ambiental com particularidades que a diferenciam das demais regiões geoeconômicas brasileiras, sendo **INCORRETO** afirmar:

- a) A estrutura geológica das áreas serranas é rica em recursos minerais e estimula a atração de investimentos para o setor.
- b) O extrativismo vegetal, principal atividade regional, é a base da economia e gera intensos desmatamentos.
- c) A ação antrópica predatória acentua a poluição, empobrece os solos e assoreia os cursos d'água, agravando os impactos ambientais.
- d) A formação de pastagens e áreas de culturas substitui parcialmente os trechos desmatados da floresta e altera o modo de sobrevivência dos caboclos locais.

## **QUESTÃO 47**

A globalização é consequência direta do desenvolvimento científico e tecnológico e vem se manifestando nas diversas instâncias da sociedade humana, nos aspectos econômicos, sociais, políticos e culturais. Considerando esse contexto, assinale a afirmativa **INCORRETA**.

- a) A globalização política reflete-se na atual configuração do mundo, expressa na transnacionalização da atuação dos Estados.
- b) A globalização econômica destaca-se no papel do capitalismo, que alcança dimensão econômica capaz de impor as decisões do mercado global.
- c) A globalização social manifesta-se nos movimentos sociais, estruturados visando a ideais como os direitos humanos e a defesa do meio ambiente.
- d) A globalização cultural conduz-se simultaneamente na homogeneidade crescente entre os lugares do mundo e no interior de cada um desses lugares.

---

RESPONDA ÀS QUESTÕES 48 E 49 CONSIDERANDO AS OPÇÕES ABAIXO.

---

- a) Se as afirmativas são verdadeiras e a primeira é consequência da segunda.
- b) Se as afirmativas são verdadeiras e a primeira não é consequência da segunda.
- c) Se a primeira afirmativa é falsa e a segunda, verdadeira.
- d) Se a primeira afirmativa é verdadeira e a segunda, falsa.

## **QUESTÃO 48**

Com o ciclo de independência tardia, várias ex-colônias na África tentaram copiar modelos políticos e ideológicos importados do mundo desenvolvido.

### **PORQUE**

A dominação das metrópoles européias deixou, como legado, um mapa africano sem a preocupação de definir fronteiras que ao menos colocassem as múltiplas identidades nativas nos seus devidos habitats geográficos, estabelecendo conflitos étnicos, religiosos, etc.

## **QUESTÃO 49**

A criação de blocos regionais de cooperação e integração é uma solução que soma e completa as potencialidades nacionais e/ou que operam por vias unilaterais ou concorrentes.

### **PORQUE**

As manifestações de pobreza e desamparo, em múltiplos cenários da realidade dos países periféricos, podem alcançar, em curto prazo, saltos de desenvolvimento e progresso equivalentes aos dos países centrais.

**QUESTÃO 50**

O crescimento econômico global tem sido, em grande parte, sustentado pelo crescimento dos países “gigantes” do mundo: China – Índia. O rápido crescimento econômico desses países está produzindo os seguintes efeitos, **EXCETO**:

- a) uma grande massa populacional está emergindo da chamada linha da pobreza e tornando-se novos consumidores.
- b) as diferenças sociais têm sido reduzidas em ambos os países, em face à rapidez do crescimento e ao modelo econômico adotado.
- c) essas gigantescas economias globais estão emergindo como um novo padrão de desenvolvimento, em que o tamanho das economias é proporcional às disparidades regionais internas.
- d) o poderio econômico desses países poderá promover um rearranjo das zonas de influência de poder global.